

Grupo A-1

Sub-Grupo	Cantidad total de preguntas	Cantidad de Preguntas destinadas al test de la Licitación clase:						Preguntas tipo	Pases preguntas de cualquier categoría	Preguntas que no podrán rotarse en el mismo test.
		A1-A2-A3	B1-B2-F	C-E1	D0-D2	D3	E2-G			
A-1-1	5	1	1	1	1	1	1	No	No	
A-1-2	15	2	2	2	2	2	2	No	Si, la 8, 16, 19	(1)
TOTAL	20	3	3	3	3	3	3			

SUB-GRUPO A-1-1

1. LA SEÑALIZACIÓN TAMBIÉN COMPRENDE LAS SEÑALES EN LOS VEHÍCULOS?

- a) Sí.
- b) No.

2. ¿CUÁL ES EL ORDEN CORRECTO DE PRIORIDAD DE LAS SEÑALES QUE SE ENUMERAN A CONTINUACIÓN?

- a) Señales de los agentes, semáforos, balizamiento, verticales y marcas viales.
- b) Señales de los agentes, semáforos, verticales, balizamiento y marcas viales.
- c) Señales de los agentes, señalización circunstancial, semáforos, verticales y marcas viales.

3. EN AUSENCIA DE LOS AGENTES DE TRÁNSITO O PARA AUXILIAR A ÉSTOS, Y EN LAS CIRCUNSTANCIAS Y CONDICIONES REGLAMENTARIAS ESTABLECIDAS, EL PERSONAL DE OBRAS EN LA VÍA PODRÁN REGULAR LA CIRCULACIÓN MEDIANTE EL EMPLEO DE SEÑALES?

- a) Sí.
- b) No.

4. SI EL SEMÁFORO ESTA EN ROJO Y EL AGENTE DE TRÁNSITO LE INDICA QUE AVANCE. ¿QUE DEBE HACER UD.?

- a) Avanzar, porque la orden del agente prevalece por sobre el semáforo.
- b) No avanzar porque el semáforo esta en rojo y no puede violarse.

5. LOS RESPONSABLES DE GRUPOS ESCOLARES, CUANDO SE DISPONGAN A CRUZAR LA VÍA PODRÁN INVITAR A LOS CONDUCTORES A QUE SE DETENGAN, PERO ¿CÓMO LO HARÁN?

- a) Levantando el brazo en forma totalmente vertical.
- b) Colocándose en el centro de la calzada sin hacer ninguna señal.
- c) Utilizando la señal vertical "PARE" incorporada a una paleta.

Sub-Grupo A-1-2

6. AL ENCONTRARSE Ud. DETENIDO CON SU VEHÍCULO EN UN SEMÁFORO QUE CAMBIA A VERDE, Y EN ESE MOMENTO SE ENCUENTRA UN PEATÓN CRUZANDO. ¿CUÁL DEBE SER SU ACTITUD?

- a) Avisarle al peatón que se apure mediante señales luminosas y/o sonoras.
- b) Iniciar la marcha en forma lenta y precautoria, para no molestar al peatón.
- c) Esperar a que el peatón termine de cruzar la calle.

7. FRENTE A UN SEMÁFORO CON LUZ AMARILLA INTERMITENTE DEBO.... (1)

- a) Reducir paulatinamente la velocidad y avanzar con precaución, si con ello no altero el recorrido y/o velocidad de los vehículos que circulen por la vía lateral.
- b) Acelerar y trasponer la intersección lo antes posible.
- c) Frenar y detener el vehículo, y luego de constatar que no circula nadie por la vía lateral, avanzar.

8. QUE INDICA UN SEMÁFORO CON LUCES AMARILLAS INTERMITENTES? (1)

- a). Se prohíbe la circulación en esa dirección.
- b). Que debe extremarse la precaución, permitiéndose el paso pero sin prioridad.
- c). Aconseja acelerar la marcha para agilizar la circulación.

9. EL SEMÁFORO DISPUESTO PARA DOS SENTIDOS O MÁS DE CIRCULACIÓN, CON LUZ AMARILLA INTERMITENTE...

- a) Indica precaución.
- b) Permite avanzar de acuerdo a la prioridad establecida por la señalización vertical, la horizontal o la prioridad de la derecha en ese orden.

10. LOS SEMÁFOROS PARA LOS CARRILES REVERSIBLES TIENEN ÓPTICA...

- a) Cuadradas.
- b) Circulares.

11. LOS SEMÁFOROS PARA CARRILES REVERSIBLES INDICAN...

- a) Con una luz roja la prohibición de avanzar por el carril y con una luz verde la habilitación para avanzar por el carril.
- b) Con una cruz roja la prohibición de avanzar por el carril y una flecha verde apuntando hacia abajo para habilitar el uso del carril.

12. PUEDE HABER EN UN POSTE DE SEMÁFORO UNA SEÑAL DE PARE?

- a) No, porque la señal de PARE esta en contradicción con la luz verde del semáforo.
- b) Si, porque la señal de Pare recién tiene alcance cuando el semáforo este en amarillo intermitente o apagado.

13. CUANDO UN VEHÍCULO QUEDA INMOVILIZADO POR UN SEMÁFORO EN ROJO SE ENCUENTRA.

- a) Detenido
- b) Estacionado
- c) Parado

14. DEBE DETENERSE UN VEHÍCULO FRENTE A UN SEMÁFORO CON LUZ INTERMITENTE ROJA?

- a) No, solo debe avanzar con precaución.
- b) Sí; debiendo reiniciar la marcha cuando no altere la trayectoria y/o velocidad de los vehículos de la otra vía.

15. EN UNA INTERSECCIÓN CON SEMÁFORO, EL PEATÓN LA CRUZA LÍCITAMENTE CUANDO EL MISMO ESTA EN ROJO PARA SU DIRECCIÓN?

- a) Sí.
- b) No.

15. SI LA ESQUINA NO TIENE SEMÁFORO. ¿EL PEATÓN TIENE PRIORIDAD?

- a) Sí.
- b) No.

16. UNA INTERSECCIÓN CON SEMÁFORO EN ROJO. ¿PUEDE SER ATRAVESADA POR UN VEHÍCULO SI NO VIENE NINGUNO POR LA OTRA VÍA?

- a) Sí.
- b) No.

17. LOS SEMÁFOROS QUE REGULAN UNA INTERSECCIÓN. TIENEN UN INSTANTE EN QUE EL ROJO ESTA DADO PARA AMBAS DIRECCIONES?

- a) Sí.
- b) No, siempre que una dirección está en rojo, la otra esta en verde.

18. LA LUZ DEL SEMÁFORO ESTÁ ROJA, PERO LA FLECHA VERDE ADICIONAL ESTÁ ENCENDIDA. ESTO LE INDICA...



- a). Que debo detenerme cualquiera sea la dirección que vaya a seguir.
- b). Que debo girar obligatoriamente a la derecha si estoy colocado en el carril de la derecha.
- c). Que puedo girar la derecha si estoy colocado en el carril de la derecha, pero no estoy obligado a hacerlo.

19. EN CUALQUIER CLASE DE VÍA LA PARADA Y EL ESTACIONAMIENTO NO SE PODRÁN EFECTUAR...

- a) En pasos de peatones e intersecciones.
- b) Delante de un edificio público aunque no haya señal que lo prohíba.
- c) A menos de cinco metros de una esquina.

Grupo A-2

Sub-Grupo	Cantidad total de preguntas	Cantidad de Preguntas destinadas al test de la Licencia clase:						Preguntas fijas	Pocas preguntas de carácter eliminatorio	Preguntas que no pueden colocarse en el mismo test.
		A1-A2-A3	B1-B2-F	C-E1	D1-D2	D3	E2-G			
A-2-1	8	1	1	1	1	1	1	No	No	-
A-2-2	5	1	1	1	1	1	1	No	Si, la 9	-
A-2-3	4	1	1	1	1	1	1	No	No	-
A-2-4	29	3	4	4	4	4	4	No	8, la 25, 32, 33, 34, 35, 39, 40	(1) (2) (3) (4) (5) (6) (7) (8)
A-2-5	10	2	2	2	2	2	2	No	8, la 50, 51, 52, 53, 56	-
A-2-6	3	1	1	1	1	1	1	No	No	-
TOTAL	59	9	10	10	10	10	10			

SUB-GRUPO A-2-1

1. LAS SEÑALES VERTICALES BASAN SU COMUNICACIÓN EN LA SIGUIENTE ESCALA DE INTERPRETACIÓN?

- a) 1º Forma, 2º Color y 3º Mensaje.
- b) 1º Mensaje, 2º Forma y 3º Color.
- c) Sólo por el mensaje, no importa la forma y el color.

2. ¿QUÉ SEÑALES VERTICALES TIENEN ALCANCE JURÍDICO?

- a) Los rombos, los círculos, el triángulo con vértice hacia abajo, el octógono y, como excepción, algunas señales informativas.
- b) Los rombos, los círculos y las de prioridad.
- c) Todas las señales.

3. LOS ROMBOS...

- a) Advierten un peligro.
- b) Advierten un peligro y además en muchos casos, imponen un comportamiento vial.

4. LA SEÑAL DE PREVENCIÓN DE COLOR ANARANJADO INDICA...

- a) Un peligro en una ruta con características normales.
- b) Un peligro en una ruta en obras.

5. LA SEÑAL CIRCULAR DE FONDO AZUL:

- a) Previene.
- b) Obliga.
- c) Informa.

6. LA SEÑAL CIRCULAR...

- a) Reglamenta.
- b) Previene.
- c) Informa.

7. LA SEÑAL RECTANGULAR:

- a) Previene.
- b) Obliga.
- c) Informa.

8. LAS SEÑALES QUE PROHIBEN Y OBLIGAN, SON CIRCULARES?

- a) Sí.
- b) No.

SUB-GRUPO A-2-2

9. FRENTE A LA SEÑAL DE PARE; ¿QUÉ DEBE HACER EL CONDUCTOR DEL VEHÍCULO?

- a) Detener el vehículo y reanudar la marcha cuando los vehículos de la vía prioritaria le cedan el paso.
- b) No detenerse, y sólo hacerlo si por la vía con prioridad cruza algún vehículo.
- c) Detener el vehículo y ceder el paso; y sólo reanudar la marcha si con ello no altero la velocidad y/o trayectoria de los vehículos que circulan por la vía prioritaria.

10. LA SEÑAL PARE SIGNIFICA:

- a) Detenerse y ceder el paso.
- b) Reducir la velocidad paulatinamente y reiniciar la marcha cuando ello no altere la trayectoria y/o velocidad del vehículo que tiene la prioridad.

11. LA SEÑAL DE PARE, TIENE IGUAL ALCANCE QUE UN SEMÁFORO EN ROJO?

- a) Sí.
- b) No.

12. USTED LLEGA A LA ALTURA DE LA SEÑAL PARE, Y VE QUE EL VEHÍCULO QUE LE PRECEDE PASA. PUEDE USTED SEGUIRLE, YA QUE SE SUPONE QUE NO SE ACERCA NINGÚN VEHÍCULO?

- a) Sí.
- b) No, obligatoriamente deberé detenerme y comprobar si se acerca algún vehículo.

c) Sí, si es que no se aproxima ningún vehículo por la derecha

13. LA SEÑAL DE PARE, PUEDE SER SUPERADA...

- a) Después de efectuar la detención.
- b) Previa detención y si con ello no se altera la trayectoria y/o velocidad de los vehículos de la vía con prioridad.

SUB-GRUPO A-2-3

14. LAS SEÑALES DE FORMAS SINGULARES REGLAMENTAN...

- a) Prioridad.
- b) Normas de comportamiento vial.

15. LA SEÑAL VERTICAL QUE OBLIGA A CEDER EL PASO ES:

- a) El triángulo con vértice hacia abajo.
- b) El triángulo con vértice hacia abajo y el octógono con la palabra PARE.

16. EL TRIÁNGULO CON VÉRTICE HACIA ABAJO....

- a) Establece la no prioridad de manera absoluta.
- b) Otorga prioridad de paso.

17. DENTRO DE LAS SEÑALES REGLAMENTARIAS, LAS QUE IMPONEN LA NO PRIORIDAD DE PASO O ACCESO DE MANERA ABSOLUTA, TIENEN FORMAS SINGULARES?

- a) Sí.
- b) No.

SUB-GRUPO A-2-4

18. CUÁLES SON LAS SEÑALES REGLAMENTARIAS? (1)

- a) Las de forma circular, el triángulo y el octógono.
- b) Las de forma de rombo.
- c) Las de forma de rombo y circulares.

19. LAS SEÑALES QUE OBLIGAN, DE QUE COLOR SON?

- a) Azules.
- b) Blancas con orla roja.

19. LA SEÑAL CIRCULAR CON ORLA ROJA Y FONDO BLANCO...

- a) Prohíbe y restringe.
- b) Prohíbe, limita y obliga.

20. LAS SEÑALES MEDIANTE SUS FORMAS COMUNICAN AL USUARIO DE LA VÍA SITUACIONES, EVENTOS Y ÓRDENES. ¿QUÉ FORMA TIENE LA SEÑAL QUE REGLAMENTA? (1)

- a) Rombo.
- b) Círculo.
- c) Rectángulo.

21. LA SEÑAL CIRCULAR REGLAMENTA... (2)

- a) Desde el lugar donde es percibida.
- b) Desde el lugar donde está emplazada.

22. UNA SEÑAL REGLAMENTARIA DE PROHIBICIÓN O RESTRICCIÓN. DESDE DÓNDE TIENE VIGENCIA? (2)

- a) Desde donde el usuario la vea.
- b) Desde el lugar donde está emplazada.

23. EN UNA SEÑAL CIRCULAR CON ORLA ROJA, FONDO BLANCO Y CON UN SÍMBOLO EN

COLOR NEGRO Y OTRO EN ROJO. ¿CUÁL ES LA MANIOBRA PROHIBIDA Y/O RESTRINGIDA?

- a) La que está en rojo.
- b) La que esté cruzada por una banda transversal en rojo.

24. SI NO SE CUMPLE CON LO ESTABLECIDO CON ESTA SEÑAL SE COMETE INFRACCIÓN?



- a) Sí.
- b) No.

25. SI NO SE CUMPLE CON LO ESTABLECIDO EN ESTA SEÑAL SE COMETE INFRACCIÓN? (3)



- a) Sí.
- b) No.

26. LA SEÑAL  DICE QUE... (3)

- a) Tiene prioridad el vehículo que circula en sentido contrario.
- b) Tiene usted prioridad en el paso estrecho.
- c) Existe peligro por doble circulación provisional.

27. ESTA SEÑAL  ESTABLECE... (3)

- a) Prioridad, aunque es una señal informativa.
- b) Solo una información porque es cuadrada.

28. ESTA SEÑAL  ESTABLECE... (7)

- a) Una velocidad máxima.
- b) Una velocidad aconsejada.

29. QUIEN NO RESPETE ESTA SEÑAL... (7) 

- a) Comete infracción.
- b) No comete infracción.

30. ESTA SEÑAL,  ESTABLECE...

- a) La prohibición de avanzar y también que la vía tiene sentido de circulación opuesto.
- b) Sólo la prohibición de avanzar.

31. ESTA SEÑAL  ADEMÁS DE PROHIBIR GIRAR A LA IZQUIERDA,

TAMBIÉN PROHIBE GIRAR EN U? (4)

- a) Sí.
- b) No.

32. ESTA SEÑAL  ADEMÁS DE PROHIBIR GIRAR EN U, TAMBIÉN

PROHÍBE GIRAR A LA IZQUIERDA? (4)

- a) Sí.
- b) No.

33. ESTAS SEÑALES DE PROHIBIDO ADELANTAR RIGEN... (6) 

- a) Para todo tipo de vehículo.
- b) Sólo para automóviles.

34. LA SIGUIENTE SEÑAL  ESTABLECE... (6)

- a) Prohibido adelantar.
- b) Prohibido estacionar en doble fila.

35. UN ÓMNIBUS, A LA VISTA DE ESTA SEÑAL,  PUEDE ADELANTAR?(5)

- a) Sí.
- b) No.

36. ESTAS SEÑALES DE PROHIBIDO ADELANTAR, RIGEN...   (5)

- a) Sólo para camiones.
- b) Para camiones y ómnibus.

37. A LA VISTA DE CUALQUIERA DE ESTAS SEÑALES; SE PUEDEN ADELANTAR MOTOCICLETAS?



- a) Sí.
- b) No.

38. ESTA SEÑAL,  ESTABLECE...(8)

- a) La dirección obligatoria de la vía donde está emplazada.
- b) Sólo indica la dirección permitida.

39. QUÉ SEÑAL REGLAMENTA LA DIRECCIÓN OBLIGATORIA? (8)



40. ¿QUE LE ANUNCIAN ESTAS SEÑALES REDONDAS?



a) Que la calzada está cortada a 40 m.

b) Que está prohibida la circulación a los conductores noveles.



c) Que debo circular como máximo a 40 km/h. y detenerme en el puesto de peaje próximo.

41. ESTA SEÑAL... 

a) Prohíbe la circulación de vehículos de ancho superior a 2,5 m.

b) Indica la vía reservada a la circulación de vehículos especiales.

c) Prohíbe el paso de vehículos que transporten materias peligrosas.

42. UN VEHÍCULO EN EMERGENCIA, DEBE ESPERAR QUE LE CEDAN LA PRIORIDAD?


- a) Sí.
- b) No, puede violarla

43. EL FIN DE LA PROHIBICIÓN Y/O RESTRICCIÓN SE SEÑALIZA CON ESTA SEÑAL. (6)



a) Sí


b) No 

44. ESTA SEÑAL,  ESTABLECE...

a) Obligación para los conductores de circular con el luz de corto alcance con independencia de las condiciones de visibilidad e iluminación de la vía.

b) Que puede circularse con las luces del vehículo encendidas.

45. LA SEÑAL VERTICAL QUE SE OBSERVA EN LA FIGURA, LE INDICA QUE A PARTIR DE ELLA... (6)



a) Finalizan todas las limitaciones o prohibiciones anteriores.

b) Finaliza la prohibición de adelantar en general.

c) Pueden adelantar los automóviles y motocicletas pero no los camiones.

SUB-GRUPO A-2-5

46. LA SEÑAL CON FORMA DE ROMBO:

- a) Previene.

- b) Obliga.
- c) Informa.

47. LA SEÑAL EN FORMA DE ROMBO ESTABLECE LA ADVERTENCIA DE UN PELIGRO...

- a) Desde el lugar donde es percibida.
- b) Desde el lugar donde está emplazada.

48. ¿CÓMO GIRARÁ A LA DERECHA EN ESTA INTERSECCIÓN?



- a) Señalizando la maniobra y cediendo el paso.
- b) Señalizando la maniobra sin necesidad de ceder el paso.
- c) No puedo realizar la maniobra hasta que quede libre la intersección.

49. HAY SEÑALES DE ADVERTENCIA DE PELIGRO QUE ADEMÁS INDICAN PRIORIDAD?

- a) Sí.
- b) No, sólo advierten peligro.

50. QUÉ ESTABLECE ESTA SEÑAL?



- a) Indica la presencia de una escuela.
- b) Advierte la ubicación de una escuela donde los vehículos deben circular con precaución.
- c) Advierte el peligro por la proximidad de lugar frecuentado por niños, tales como escuela, zona de juegos, etc., y donde los vehículos deben ceder el paso en cualquier lugar de la vía.

51. LAS SEÑALES DE PREVENCIÓN LE ADVIERTEN DE UN PELIGRO TANTO PARA SÍ COMO PARA TERCEROS. PERO ADEMÁS, ALGUNAS DE ELLAS IMPLICAN UN DETERMINADO COMPORTAMIENTO VIAL?

- a) Sí.
- b) No, sólo advierten el peligro.

52. LA SEÑAL DE ESCUELA, ESTABLECE UN LÍMITE DE VELOCIDAD:

- a) Sí, de 30 K/h.
- b) Sí, de 30 K/h. Pero solo cuando hay niños y/o escolares.
- c) No, solo advierte la presencia de una escuela.

53. ESTA SEÑAL DE PELIGRO ¿SE CONSIDERA TAMBIÉN DE PRIORIDAD? (9)



a) Sí.

b) No.

54. LA SEÑAL QUE SE OBSERVA EN LA FIGURA, LE ADVIERTE DE UN PELIGRO POR... (9)



- a) La proximidad de un cruce por la derecha en el que tengo prioridad de paso.
- b) La proximidad de un cruce en el que debo ceder el paso a los vehículos que salen por la vía de la derecha.
- c) La proximidad de un empalme a la derecha en el que tengo la obligación de permitir la incorporación de otros vehículos.

55. QUÉ ESTABLECE ESTA SEÑAL?



- a) Indica la presencia de un cruce peatonal.
- b) Advierte el peligro por la proximidad de un cruce peatonal donde los vehículos deben ceder el paso a los peatones.
- c) Advierte la ubicación de un cruce peatonal donde los vehículos deben circular con precaución.

SUB-GRUPO A-2-6

56. ESTA SEÑAL...



a) Obliga.

b) Prohíbe.

c) Orienta.

57. ESTA SEÑAL  TIENE ALCANCE JURÍDICO?

a) No, porque es rectangular.

b) Sí, por excepción.

58. CUÁL DE LAS SIGUIENTES CONFIGURACIONES DE PANELES COMPLEMENTARIOS IDENTIFICA UNA CURVA PELIGROSA...



c)



A-3. SEÑALIZACIÓN HORIZONTAL

Grupo A-3

Sub-Grupo	Cantidad total de preguntas	Cantidad de Preguntas destinadas al test de la Licencia clase:						Preguntas fijas	Pese preguntas de carácter alternativo	Preguntas que no podrán solucionarse en el mismo test.
		A1-A2-A3	B1-B2-F	C-E1	D1-D2	D3	E2-G			
A-3-1	17	3	3	3	3	3	3	Si la 16	Si la 4, 5, 6, 11, 12, 15, 16	(1) (4) (5)
A-3-2	7	1	1	1	1	1	1	No	Si la 20, 23, 24	(8)
A-3-3	6	1	1	1	1	1	1	No	Si la 26, 28	(2)
A-3-4	4	-	1	1	1	1	1	No	Si la 31	-
A-3-5	4	1	2	2	2	2	2	Si la 35	Si la 35	-
A-3-6	2	1	1	1	1	1	1	No	Si la 40	-
A-3-7	13	2	3	3	3	3	3	Si la 44	Si la 41, 44	(3) (6) (7)
TOTAL	53	9	12	12	12	12	12			

SUB-GRUPO A-3-1

1. LA DEMARCACIÓN HORIZONTAL; TIENE ALCANCE REGLAMENTARIO?

- a) Sólo si va acompañada a la señalización vertical.
- b) Sí, aunque no exista señal vertical.

2. ¿CUÁL ES EL ORDEN DE INTERPRETACIÓN DE LAS MARCAS VIALES?

- a) 1º Por su posición, 2º por su color, 3º por su trazo.
- b) 1º Por su color, 2º por su trazo, 3º por su posición.
- c) 1º Por su posición, 2º por su trazo, 3º por su color.

3. LAS LÍNEAS LONGITUDINALES REGLAMENTAN EL USO DEL CARRIL...

- a) Adyacente.
- b) Propio.

4. ¿CUÁLES LÍNEAS PUEDE UD. ATRAVESAR CON SU VEHÍCULO PARA CAMBIAR DE CARRIL? (4)

- a) Longitudinales continuas.
- b) Longitudinales discontinuas.

5. QUÉ MARCA VIAL EN LA CALZADA LE IMPIDE EL ADELANTAMIENTO? (4)

- a) Las líneas longitudinales continuas
- b) Las líneas longitudinales discontinuas.
- c) Las marcas blancas transversales discontinuas.


6. UNA LÍNEA LONGITUDINAL CONTINUA... (1)

- a) No puede ser pisada ni atravesada.
- b) Puede ser atravesada si en el carril adyacente no circula ningún vehículo.
- c) Permite que se circule sobre ella pero no puede ser atravesada.

7. UNA LÍNEA LONGITUDINAL CONTINUA; TIENE IGUAL SIGNIFICADO QUE DOS LÍNEAS LONGITUDINALES CONTINUAS ADOSADAS?

- a) Sí.
- b) No.

8. ANTE ESTA SITUACIÓN, ¿PODEMOS CAMBIAR DE CARRIL? (5)



- a) Sí, si lo permiten las circunstancias del tráfico.
- b) Sí, pero sólo para girar a la derecha.
- c) No, porque lo prohíben las marcas viales.

9. USTED CIRCULA POR UN CARRIL DELIMITADO POR LÍNEAS LONGITUDINALES DONDE HAY UNA FLECHA INDICANDO GIRAR A LA DERECHA Y NO DESEA GIRAR, ¿LE ESTA PERMITIDO CAMBIAR DE CARRIL? (5)

- a) Sí, tanto si las líneas son continuas como discontinuas.
- b) No, porque debo seguir la dirección indicada por la flecha tanto si las líneas son continuas como si son discontinuas.
- c) Sí, pero únicamente cuando las líneas que delimitan el carril sean discontinuas y el tránsito lo permita.

10. SE PUEDE CAMBIAR DE SENTIDO EN UNA CALZADA DE DOBLE SENTIDO DE CIRCULACIÓN, QUE POSEA LÍNEAS LONGITUDINALES CONTINUAS?

- a) Sí, si hace la maniobra con precaución
- b) No, porque esta prohibido atravesar líneas continuas

11. ¿EN QUE CASO PUEDE USTED CIRCULAR CON LAS MARCAS LONGITUDINALES CONTINUAS ENTRE LAS RUEDAS?

- a) En ninguno.
- b) Cuando vaya a tomar alguna curva para hacer la trayectoria más segura.
- c) Sólo en tramos rectos a nivel o ligeramente inclinados.

12. UNA LÍNEA LONGITUDINAL CONTINUA PUEDE SER PISADA Y/O ATRAVESADA? (1)

- a) Sí, para adelantar a otro vehículo, siempre que tenga visibilidad y no haya ningún vehículo ocupando ese carril.
- b) No, en ningún caso.
- c) Sí, pero sólo cuando salgo de una propiedad frentista a la vía y pretendo ocupar el carril ubicado del otro lado de la línea.

13. LAS LÍNEAS LONGITUDINALES CONTINUAS SEPARAN...

- a) Los sentidos en calzada de doble sentido de circulación.
- b) Los sentidos en calzada de doble sentido de circulación, y además los carriles en calzada de un solo sentido de circulación.
- c) Los carriles en calzada de un solo sentido de circulación.

14. LA LÍNEA LONGITUDINAL CONTINUA DE BORDE DE PAVIMENTO EN UNA CALZADA DE DOBLE SENTIDO DE CIRCULACIÓN, TIENE EL MISMO ALCANCE QUE LAS LÍNEAS LONGITUDINALES CONTINUAS DEL EJE?

- a) Sí.
- b) No.

15. EN UNA AUTOPISTA, LAS LÍNEAS LONGITUDINALES DE BORDE DE CALZADA PUEDEN SER ATRAVESADAS?

- a) Sí, porque se accede a la banquina.
- b) Sí, pero solo la que delimita la banquina derecha.
- c) No, porque es una línea continua.

16. SI NO VIENE NINGÚN VEHÍCULO EN SENTIDO OPUESTO, SE PUEDE ATRAVESAR UNA LÍNEA LONGITUDINAL CONTINUA?

- a) Sí.
- b) No.

17. A SU CRITERIO, LA LÍNEA LONGITUDINAL CONTINUA ES TAN IMPORTANTE COMO UN SEMÁFORO?

- a) Sí.
- b) No.

SUB-GRUPO A-3-2

18. LAS LÍNEAS LONGITUDINALES DISCONTINUAS, SEPARAN...

- a) Carriles de igual sentido.
- b) Carriles de sentido opuesto.
- c) Carriles de igual sentido y de sentido opuesto.

19. SE PUEDE CIRCULAR CON UN VEHÍCULO SOBRE LÍNEAS LONGITUDINALES DISCONTINUAS?

- a) Sí.

- b) No.

20. SE PUEDEN ATRAVESAR LÍNEAS LONGITUDINALES DISCONTINUAS?

- a) Sí, siempre.
- b) No.
- c) Sí, pero sólo si la seguridad de la circulación y la prioridad establecida en la norma de comportamiento vial lo permiten.

21. LAS LÍNEAS LONGITUDINALES DISCONTINUAS DE TRAZO ANCHO. SEPARAN:

- a) Carriles normales de los de aceleración, de los de tránsito lento, de los de exclusividad y de los de espera para giros a la izquierda.
- b) Carriles normales en aquellos lugares en donde se necesite destacarlos por su alto volumen de tránsito.
- c) Carriles normales de los destinados solo al tránsito lento.

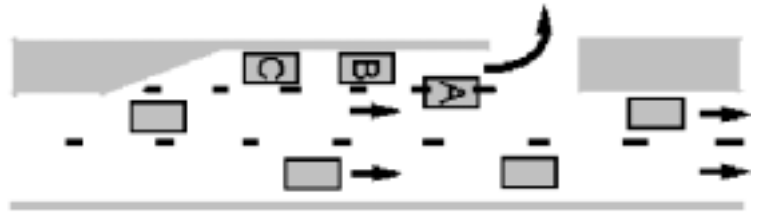
22. CIRCULANDO POR UNA VÍA URBANA ¿QUÉ MARCAS LE PROHIBEN CAMBIAR DE CARRIL?

- a) Las continuas.
- b) Las discontinuas.
- c) Ninguna, puesto que en estas vías siempre se puede cambiar de carril.

23. EN UNA DÁRSENA DE GIRO A LA IZQUIERDA O A LA DERECHA, LOS VEHÍCULOS ESTÁN OBLIGADOS A DETENERSE COMPLETAMENTE DENTRO DEL CARRIL DE GIRO? (8)

- a) Si.
- b) No, pueden ocuparlo parcialmente para tener un mejor radio de giro al momento de doblar.

24. EN LA FIGURA, EL VEHÍCULO "A" SE ENCUENTRA EN INFRACCIÓN? (8)



- a) Sí.
- b) No, su ubicación es correcta para tener mejor radio de giro.

SUB-GRUPO A-3-3

25. LAS LÍNEAS LONGITUDINALES CONTINUAS Y DISCONTINUAS ADOSADAS...

- a) Separan carriles de sentido opuesto.
- b) Separan carriles de sentido opuesto y también carriles de igual sentido.

26. UNA LÍNEA LONGITUDINAL CONTINUA ADOSADA A OTRA DISCONTINUA. ¿PUEDE SER ATRAVESADA? (2)



- a) No.
- b) Sí, pero sólo desde el carril colindante a la discontinua.
- c) No, pero puedo circular sobre ellas.

27. SE PUEDE CIRCULAR SOBRE LAS LÍNEAS LONGITUDINALES CONTINUAS Y DISCONTINUAS ADOSADAS?

- a) Sí, pero no pueden ser atravesadas.
- b) No.

28. LAS LÍNEAS LONGITUDINALES CONTINUAS Y DISCONTINUAS ADOSADAS. PUEDEN SER ATRAVESADAS? (2)

- a) No.
- b) Sí, pero sólo desde el carril que limita con la línea longitudinal discontinua y siempre que la seguridad de la circulación y las Normas de comportamiento vial lo permitan.

29. LAS LÍNEAS LONGITUDINALES DISCONTINUAS ADOSADAS DISPUESTAS A LA IZQUIERDA CONSIDERANDO EL SENTIDO DE CIRCULACIÓN. ¿PUEDEN ATRAVESARSE?

- a) No.
- b) Sí, porque son discontinuas.

30. LAS LÍNEAS LONGITUDINALES DISCONTINUAS ADOSADAS...

- a) Delimitan un carril central para adelantamiento.
- b) Delimitan un carril reversible.
- c) Delimitan un carril reversible, pero su uso debe estar regulado por un semáforo de carril.

SUB-GRUPO A-3-4

31. UNA LÍNEA TRANSVERSAL CONTINUA SOBRE LA CALZADA, EN UN LUGAR DONDE EXISTA AGENTE DE TRÁNSITO O SEMÁFORO. ¿QUÉ LE IMPONE AL CONDUCTOR?

- a) Nada.
- b) Que la detención debida a la indicación del agente o al semáforo debe hacerse sin transponer esa línea.

32. LA LÍNEA TRANSVERSAL DISCONTINUA. ¿COMPLEMENTA UNA SEÑAL DE PRIORIDAD?

- a) Sí.
- b) No.

33. LA LÍNEA TRANSVERSAL DISCONTINUA OBLIGA A LA DETENCIÓN DEL VEHÍCULO?

- a) Sí, siempre.
- b) En general no, pero sí se deberá detener el vehículo si circula otro por la vía principal.

34. LA LÍNEA TRANSVERSAL DISCONTINUA ES COMPLEMENTARIA DE LA SEÑAL CEDA EL PASO?

- a) Sí.
- b) No.

SUB-GRUPO A-3-5

35. EN LA SENDA PEATONAL, CUANDO NO EXISTE SEMÁFORO O AGENTE REGULANDO EL CRUCE. QUIÉN TIENE PRIORIDAD?

- a) Los peatones. Además los vehículos deben detenerse y ceder el paso siempre.
- b) Los vehículos. Los peatones tienen la obligación de cruzar por la senda peatonal, y deben hacerlo cuando el tránsito vehicular se lo permita.

36. ¿CÓMO SE ENTIENDE CONCEPTUALMENTE UNA SENDA PEATONAL?

- a) Como la continuidad de la acera en la calzada, por lo tanto cuando los vehículos las atraviesan están circulando por un espacio propio de los peatones.
- b) Como el espacio de la calzada asignado al peatón para cruzarla.

37. LA SENDA PEATONAL ES UNA DEMARCACIÓN QUE IMPONE UNA NORMA DE COMPORTAMIENTO VIAL

- a) Sólo a los peatones.
- b) A los peatones y conductores.
- c) Sólo a los conductores.

38. SOBRE LA SENDA PEATONAL...

- a) No se puede estacionar, ni parar, ni detenerse un vehículo.
- b) No se puede estacionar, ni parar, pero debido a ciertas contingencias del tránsito puede detenerse.

SUB-GRUPO A-3-6

39. LA MARCA VIAL PARE; TIENE IGUAL SIGNIFICADO QUE LA SEÑAL VERTICAL PARE?

- a) Sí.
- b) No.

40. EL TRIÁNGULO QUE ESTÁ PINTADO EN LA CALZADA INDICA...




- a) El sentido de circulación de los vehículos.

- b) Que circula por una vía preferente.
- c) La obligación que tiene en la intersección que señaliza de ceder el paso a otros vehículos.

SUB-GRUPO A-3-7

41. LAS FLECHAS PINTADAS DENTRO DE UN CARRIL INDICAN LOS MOVIMIENTOS PERMITIDOS. ESTOS MOVIMIENTOS...

- a) Pueden hacerse libremente, siempre que estén indicadas por la flecha.
- b) Pueden hacerse sólo si la maniobra es avisada mediante las señales preceptivas y de acuerdo a las prioridades establecidas en las Normas de Comportamiento Vial.



42. ESTA DEMARCACIÓN ESTÁ DESTINADA A UN USO ESPECIAL...

- a) Como parada de ómnibus o destinada a la carga y descarga.
- b) Como parada de ómnibus o destinada a la carga y descarga, pero además indica que está prohibido estacionar.

43. LA MARCA VIAL EN FORMA DE CUADRÍCULA INDICA QUE...

- a) Es una zona peligrosa.
- b) Refuerza la norma de comportamiento Vial que establece que ningún vehículo debe quedar detenido en una intersección.

44. SE PUEDE CIRCULAR SOBRE EL CEBREADO DEMARCADO EN LA CALZADA?

- a) Si.
- b) No.

45. SE PUEDE ESTACIONAR SOBRE EL CEBREADO DEMARCADO EN LA CALZADA?

- c) Si.
- d) No.

46. LAS LÍNEAS DEL CEBREADO INDICAN UNA CIRCULACIÓN EN DOBLE SENTIDO, EN SENTIDO ÚNICO DIVERGENTE Y EN SENTIDO ÚNICO CONVERGENTE. MARQUE CUAL ES LA DE SENTIDO ÚNICO CONVERGENTE. (3)



a)



b)



c)

47. LAS LÍNEAS DEL CEBREADO INDICAN UNA CIRCULACIÓN EN DOBLE SENTIDO, EN SENTIDO ÚNICO DIVERGENTE Y EN SENTIDO ÚNICO CONVERGENTE. MARQUE CUAL ES LA DE DOBLE SENTIDO. (3)

a)



b)



c)



48. LAS LÍNEAS DEL CEBREADO INDICAN UNA CIRCULACIÓN EN DOBLE SENTIDO, EN SENTIDO ÚNICO DIVERGENTE Y EN SENTIDO ÚNICO CONVERGENTE. MARQUE CUÁL ES LA DE SENTIDO ÚNICO DIVERGENTE. (3)



a)



b)



c)

49. LA DEMARCACIÓN DE PLAZAS DE ESTACIONAMIENTO, OBLIGA A LOS CONDUCTORES A ESTACIONAR LOS VEHÍCULOS DENTRO DE LA PLAZA DEMARCADA?

- a) Sí.
- b) No, siempre que se estacione en la zona de estacionamiento permitido.

50. LA MARCA VIAL DE NIEBLA TIENE COMO FUNCIÓN... (6)

- a) Regular la velocidad en zona de niebla.
- b) Guiar y regular la velocidad en zona de niebla.

51. LAS MARCAS DE NIEBLA, DEBEN ESTAR COMPLEMENTADAS POR UNA SEÑAL VERTICAL? (6)

- a) No, porque valen por sí mismas.
- b) Sí, para reglamentar la velocidad.

52. SI EL CORDÓN DE LA VEREDA ESTÁ PINTADO CON TRAZOS AMARILLOS. ESTÁ PROHIBIDO ESTACIONAR? (7)

- a) Sí.
- b) Sí, pero también está prohibido parar.

53. SI EL CORDÓN DE LA VEREDA ESTA PINTADO CON AMARILLO EN FORMA CONTINUA. ESTÁ PROHIBIDO ESTACIONAR Y PARAR? (7)

- a) No, solo esta prohibido estacionar.
- b) Sí.